

OBČANSKÝ A SPOLEČENSKOVĚDNÍ ZÁKLAD

základní úroveň obtížnosti

OZMZD11C0T02

DIDAKTICKÝ TEST

Maximální bodové hodnocení: 94 bodů
Hranice úspěšnosti: 33 %

1 Základní informace k zadání zkoušky

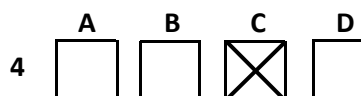
- Didaktický test obsahuje 45 úloh.
- Časový limit pro řešení didaktického testu je uveden na záznamovém archu.
- Povolené pomůcky: pouze psací potřeby.
- U každé úlohy je uveden maximální počet bodů.
- U všech úloh/podúloh je právě jedna odpověď správná.
- Za nesprávnou nebo neuvedenou odpověď se body neodečítají.
- Odpovědi pište do záznamového archu.
- Poznámky si můžete dělat do testového sešitu, nebudou však předmětem hodnocení.
- Nejednoznačný nebo nečitelný zápis odpovědi bude považován za chybné řešení.

2 Pravidla správného zápisu odpovědí

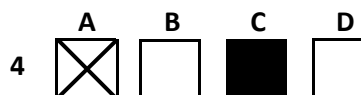
- Odpovědi zaznamenávejte modrou nebo černou propisovací tužkou, která píše dostatečně silně a nepřerušovaně.
- Hodnoceny budou pouze odpovědi uvedené v záznamovém archu.

2.1 Pokyny k uzavřeným úlohám

- Odpověď, kterou považujete za správnou, zřetelně zakřížkujte v příslušném bílém poli záznamového archu, a to přesně z rohu do rohu dle obrázku.



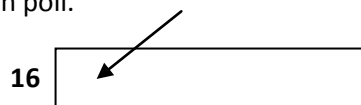
- Pokud budete chtít následně zvolit jinou odpověď, zabarvěte pečlivě původně zakřížkované pole a zvolenou odpověď vyznačte křížkem do nového pole.



- Jakýkoli jiný způsob záznamu odpovědí a jejich oprav bude považován za nesprávnou odpověď.
- Pokud zakřížkujete více než jedno pole, bude vaše odpověď považována za nesprávnou.

2.2 Pokyny k otevřeným úlohám

- Odpovědi pište čitelně do vyznačených bílých polí.



- Povoleno je psací i tiskací písmo a číslice.
- Při psaní odpovědí rozlišujte velká a malá písmena.
- Pokud budete chtít následně zvolit jinou odpověď, pak původní odpověď přeškrtněte a novou odpověď запиšte do stejného pole. Vaše odpověď nesmí přesáhnout hranice vyznačeného pole.

Testový sešit neotvírejte, počkejte na pokyn!

2 body

1 Které z následujících práv patří mezi práva asertivní?

- A) Má právo na slitování.
- B) Mám právo říct, že nevím.
- C) Má právo oplatit nadávku nadávkou.
- D) Mám právo kdykoli použít agresivní přístup.

VÝCHOZÍ TEXT K ÚLOZE 2

Decroly spatřoval nedostatky školy zejména v následujících skutečnostech:
Existuje jen malá závislost mezi různými činnostmi dítěte ve škole i mimo ni.
Vyučovací předměty mají velmi malý vztah k základním zájmům dítěte.
Soubor vyučovacích předmětů je vytvářen bez ohledu na přirozený vývoj dětského myšlení.
Škola poskytuje příliš malý prostor pro takové činnosti, které by si žáci mohli sami vybírat.

(V. Václavík, Cesta ke svobodné škole)

2 body

2 Ke které z následujících disciplín odkazuje výchozí text?

- A) andragogika
- B) antropologie
- C) pedagogika
- D) psychologie

VÝCHOZÍ TEXT K ÚLOZE 3

Jedná se o dílčí skupiny, které se více nebo méně odlišují od převládající kultury většinové a od „oficiální“ kultury. Pojem používáme např. při zkoumání životního stylu skupin mládeže, určitých sociálních a etnických vrstev, komunit apod.

(J. Jandourek, Úvod do sociologie, upraveno)

2 body

3 Který z následujících pojmů je charakterizován ve výchozím textu?

- A) elita
- B) masa
- C) kultura
- D) subkultura

VÝCHOZÍ TEXT K ÚLOZE 4

Stále se kladou větší nároky na to, jak musíme být úspěšní. Když přijedete krásně oblečení v pěkném autě a máte velký dům, lidi před vámi mají respekt.

(Magazín Práva 17. 10. 2009, upraveno)

2 body

4 Která z následujících skupin hodnot je nejpřesněji vystižena výchozím textem?

- A) sociální
- B) mediální
- C) duchovní
- D) materiální

VÝCHOZÍ TEXT K ÚLOZE 5

Veronika M. (19 let) byla vždy výbornou studentkou. Po úspěšném dokončení studia na gymnáziu se rozhodla pro studium oboru archeologie. Historie byla vždy jejím velkým koníčkem a sedm let navštěvovala zájmový kroužek Mladí archeologové. Studovat právě tento obor bylo jejím velkým snem. Písemný test při přijímacích zkouškách se jí nevydařil. Když obdržela oznámení o nepřijetí ke studiu, reagovala: „No, svět právě přišel o objevitelku ztracené Atlantidy. Ono by mě to studium stejně moc nebavilo. Chtěla jsem jen vědět, jaká bude při přijímačkách švanda.“

(CERMAT)

2 body

5 Ve kterém z následujících stavů se pravděpodobně Veronika nachází?

- A) obsese
- B) deprese
- C) frustrace
- D) deprivace

2 body

6 Při řešení jednoho z následujících úkolů se výrazně uplatní paměť. Kterého?

- A) Napište nejméně pět spisovatelů, kteří psali pohádkové knížky pro děti.
- B) Přiřaďte k jednotlivým slovům jejich synonyma, jejichž výčet najdete v rámečku.
- C) Vypočtete písemně všechny zadané příklady a výsledky запиšte do správné tabulky.
- D) Zaškrtněte v následujícím textu co nejrychleji všechna slova začínající na písmeno A.

VÝCHOZÍ TEXT K ÚLOZE 7

Baron Trenck byl osobou nanejvýše zajímavou. Na jedné straně projevil obrovskou statečnost v boji i nezměrnou inteligenci, na druhé straně byl barbarem s nezkrotnou povahou, bezmeznou arogancí a nemilosrdnou brutalitou.

(In magazín Hospodářských novin 40/2009)

2 body

7 Který z aspektů osobnosti není zachycen ve výchozím textu?

- A) prožívání
- B) vlastnosti
- C) schopnosti
- D) temperament

VÝCHOZÍ TEXT K ÚLOZE 8

S touto závislostí jsme se setkávali před listopadem 1989 zřídka. Většinou měli tito závislí lidé zároveň problém s alkoholem. Teprve po listopadu roku 1989 za námi začínali přicházet ti, pro které byla hazardní hra jediným problémem. Počet těch, kteří u nás vyhledali pomoc, nebyl rozhodně malý. Mnohem víc závislých však pomoc nevyhledává, protože o ní neví, problém si nepřiznávají nebo se stydí.

(CERMAT)

2 body

8 Napište, jak se nazývá závislost popsaná ve výchozím textu:

VÝCHOZÍ TEXT K ÚLOZE 9

Jiří už je vývojově v období po skončení puberty a postupně dále fyzicky a psychicky dozrává.

(CERMAT)

2 body

9 Napište odborný název vývojového období, které je popsáno u Jiřího:

VÝCHOZÍ TEXT K ÚLOZE 10

VOLNÁ MÍSTA

Společnost AUTO, a. s., hledá dva automechaniky na pracovní poměr. Vhodné i pro absolventy.

Požadavky: ukončené střední vzdělání s maturitní zkouškou, praxe (i během studia) vítána, trestní bezúhonnost, ŘP skupiny B

Nabízíme: zaučení, dvousměnný provoz, zaměstnanecké výhody (například týden dovolené navíc)

NÁSTUP MOŽNÝ IHNED!

Zájemci, zašlete životopis k rukám personalistky Heleny Nováčkové na adresu Masarykova 11, 101 00 Praha 10 nebo e-mailem: novackova@auto.cz.

(CERMAT)

max. 2 body

10 Rozhodněte o každém z následujících uchazečů, zda byl z výběrového řízení na pozici uvedenou v inzerátu vyřazen oprávněně (ANO), či nikoli (NE):

		A	N
10.1	Lucie E.: 28 let, SOŠ, maturita složena 2002, 10 let praxe v oboru, ŘP sk. B, svobodná matka, národnost česká, nemá záznam v rejstříku trestů.	<input type="checkbox"/>	<input type="checkbox"/>
10.2	Vladimír H.: 23 let, ukončená SOŠ s maturitou, 2 roky praxe v oboru, ŘP sk. B, rozvedený, národnost ukrajinská, nemá záznam v rejstříku trestů.	<input type="checkbox"/>	<input type="checkbox"/>
10.3	Karel M.: 21 let, ukončené středoškolské vzdělání s maturitou, 3 roky praxe v oboru, ŘP sk. B, ženatý, národnost česká, ve výpisu z trestního rejstříku uvedeno odsouzení za úmyslné ublížení na zdraví.	<input type="checkbox"/>	<input type="checkbox"/>

VÝCHOZÍ TEXT K ÚLOZE 11

Lukáš stojí v obchodě před regálem s DVD. Rád by si jedno vzal, ale nemá dost peněz. Mohl by se však pokusit DVD ukradnout.

(CERMAT)

max. 2 body

11 Rozhodněte o každém z následujících tvrzení, zda je projevem autonomní morálky (ANO), či nikoli (NE):

		A	N
11.1	Lukáš si DVD nevezme, protože se bojí, že paní u pokladny by na to přišla.	<input type="checkbox"/>	<input type="checkbox"/>
11.2	Lukáš si DVD nevezme, protože ví, že krást se nemá, a proto nikdy nekrade.	<input type="checkbox"/>	<input type="checkbox"/>
11.3	Lukáš si DVD nevezme, protože ví, že kdyby to rodiče zjistili, velice by se na něj zlobili.	<input type="checkbox"/>	<input type="checkbox"/>

max. 3 body

12 Přiřadte k jednotlivým charakteristikám víry (12.1–12.4) odpovídající náboženství (A–E):

- 12.1 Věří v jednoho Boha, vyznávají Ježíše Krista jako Spasitele a Božího syna, uznávají křest a další svátosti, věří v možnost odpuštění hříchů a spásy a očekávají druhý příchod Kristův. _____
- 12.2 Věří, že Bůh Muhammadovi zjevil Korán, který společně se Sunnou (Muhammadovy činy a Muhammadova slova) považují za základní prameny svého náboženství. _____
- 12.3 Věří, že Tóra je Boží zákon seslaný Bohem, a oni jej následují, aby dodrželi podmínky smlouvy s Bohem uzavřené, totiž vyvolení výměnou za následování jediného, pravého Boha. _____
- 12.4 Věří ve spoustu božstev – bytostí, žijících ve vyšších dimenzích existence, které jsou považovány za běžné smrtelné a nevědomé bytosti podobně jako lidé nebo zvířata, pouze je převyšují svou krásou, schopnostmi a dlouhověkostí. Bůh zde není definován. Učení je motivováno úsilím o vysvobození bytostí z nekonečného koloběhu zrození a smrti. _____

- A) islám
B) judaismus
C) křesťanství
D) hinduismus
E) buddhismus

max. 2 body

13 Přiřadte k jednotlivým životním situacím (13.1–13.3) odpovídající produkt dobrovolného pojištění sjednaný s pojišťovnou pro krytí možných rizik (A–D):

- 13.1 Pan Brož se přestěhoval a pronajal si nový velký byt. Začal podnikat jako účetní a auditor. _____
- 13.2 Paní Suková plánuje měsíční prázdninovou dovolenou, kterou by ráda prožila v exotických krajích Asie. Chtěla by procestovat Indii a navštívit Nepál. _____
- 13.3 Paní Nováková žije celoročně ve vlastní velmi dobře vybavené rekreační chalupě, na nákupy do blízkého města jezdí vlastním osobním autem. _____

- A) Pojištění rekreační nemovitosti, pojištění domácnosti, pojištění odpovědnosti za škody v běžném občanském životě, havarijní pojištění.
- B) Pojištění bytu, pojištění odpovědnosti za škody z výkonu povolání, životní pojištění.
- C) Cestovní pojištění s připojištěním úrazovým, s připojištěním asistenčních služeb a připojištěním právní ochrany.
- D) Pojištění domácnosti, pojištění odpovědnosti za škody v běžném občanském životě, pojištění profesní odpovědnosti za škody.

max. 2 body

14 Přiřadte k jednotlivým obchodním zvyklostem diskontního řetězce (14.1–14.3) odpovídající obvyklou cenovou strategii (A–E):

- 14.1 Slevy pro důchodce, slevy pro školáky. _____
 14.2 Rohlík za 1,90 Kč, máslo za 19,90 Kč. _____
 14.3 Nápadně nízké ceny, které nepokrývají ani náklady na výrobu. _____

- A) strategie nízkých cen
 B) propagační tvorba ceny
 C) strategie prémiových cen
 D) diskriminační tvorba ceny
 E) strategie tzv. „baťovských cen“

VÝCHOZÍ TABULKA K ÚLOZE 15

Výplatní lístek 4	Firma s.r.o.; Praha 1, Revoluční 401 Novák Josef	Útvar 1 (111) VZP; PRAHA 9, VELTRUSKÁ 566	Leden 2008
Pracovní poměr	Týdenní plný úvazek	Hrubá mzda	40 767 Čistá mzda 30 365
Fond 23 dnů	184:00 Plat. Základ 40:00	Zdanitelný příjem	40 767,00 Dávky nem. pojištění
Odpracováno	184:00 Prům. výdělek 37 000	Částka odp. poj.	14 268,42 Minul. Mzda+Náhr. 0 / 0
Přesčas	10:00 Započ. výdělek 225,85	Superhrubá mzda	55 035,42 Minulost Daň
Neodpracováno	Dovolená čerpáno	Základ pro výpočet	Minul. Dávka
Nemoc	Zbývá z nároku 20 dní	Zálohy na daň	55 035,42 Celkem k výplatě 30 365
Základní plat	35 000 184:00 35 000	Daň záloha	55 035,42 8 265
Osobní ohodnocení	2 000 184:00 2 000	Měsíční sleva na dani (popl.)	-2 070
Práce přesčas	10:00 2 202	Měsíční sleva na dani (dítě)	-890
Příplatek za práci přesčas	25,00 % 10:00 565	Daň po slevě (§35ba)	6 195
Prémie v Kč	1 000 1 000	Daň po slevě (§35ba+§35c)	5 305
		Sražená záloha	5 305
		Sociální pojištění	40 767 3 262
		Zdravotní pojištění	40 767 1 835
		Snížení daně - poplatník	2 070
		Daňové zvýhodnění na dítě 1x	890

(CERMAT)

2 body

15 Která z následujících částek byla z výplaty pana Nováka odvedena na účet zdravotní pojišťovny?

- A) 1 835,- Kč
 B) 3 262,- Kč
 C) 5 305,- Kč
 D) 6 195,- Kč

VÝCHOZÍ TEXT K ÚLOZE 16

Společnost:

- založena alespoň 2 osobami
- může být založena fyzickými i právnickými osobami
- osoby ručí neomezeně a solidárně celým svým majetkem
- zisk se dělí mezi společníky rovným dílem

(Obchodní zákoník, par. 76, upraveno)

2 body

16 Který typ společnosti je charakterizován ve výchozím textu?

- A) akciová společnost
- B) komanditní společnost
- C) veřejná obchodní společnost
- D) společnost s ručením omezeným

2 body

17 Která z následujících činností je živností?

- A) pořádání loterií
- B) pohřební služba
- C) povolání advokáta
- D) pronájem nemovitosti

2 body

18 Co v praxi umožňuje přímé bankovníctví?

- A) vyzvednutí finančních prostředků na přepážce banky
- B) doručení částky z účtu klienta poštou na adresu klienta
- C) ovládání účtu, aniž by klient musel navštívit banku osobně
- D) přímé rozhodování klienta o tom, kam má banka investovat

VÝCHOZÍ TEXT A TABULKA K ÚLOZE 19

Studenti střední školy se rozhodli, že budou v průběhu červnového sportovního dne prodávat sportujícím studentům, divákům a organizátorům zmrzlinu. Organizátoři projektu marketingovým průzkumem zjistili možné celkové poptávané a nabízené množství. Výsledky průzkumu jsou uvedeny v tabulce:

cena zmrzliny Kč	nabízené množství ks	poptávané množství ks
10,-	200	800
15,-	300	600
20,-	400	400
25,-	500	200

(CERMAT)

2 body

19 Jaká bude cena zmrzliny, když bude nabízené a poptávané množství v rovnováze?

- A) 10,- Kč
- B) 15,- Kč
- C) 20,- Kč
- D) 25,- Kč

max. 3 body

20 Rozhodněte o každé z následujících možností, zda nastane bezprostředně po zvýšení sazeb daně z přidané hodnoty (ANO), či nikoli (NE):

- | | A | N |
|-----------------------------------------------|--------------------------|--------------------------|
| 20.1 Sníží se výše sociálních dávek. | <input type="checkbox"/> | <input type="checkbox"/> |
| 20.2 Zvýší se ceny potravin a služeb. | <input type="checkbox"/> | <input type="checkbox"/> |
| 20.3 Zvýší se příjmy do státního rozpočtu. | <input type="checkbox"/> | <input type="checkbox"/> |
| 20.4 Zvýší se odvody ze mzdy pro zaměstnance. | <input type="checkbox"/> | <input type="checkbox"/> |

max. 2 body

21 Rozhodněte o každém z následujících států, zda je unitární (ANO), či nikoli (NE):

- | | A | N |
|----------------------|--------------------------|--------------------------|
| 21.1 Francie | <input type="checkbox"/> | <input type="checkbox"/> |
| 21.2 Německo | <input type="checkbox"/> | <input type="checkbox"/> |
| 21.3 Česká republika | <input type="checkbox"/> | <input type="checkbox"/> |

max. 2 body

22 Rozhodněte o každém z následujících tvrzení, zda odpovídá Listině základních práv a svobod (ANO), či nikoli (NE):

- | | A | N |
|--------------------------------------------------------------------------------------------------------------------------------------------------|--------------------------|--------------------------|
| 22.1 Trest smrti lze udělit jako výjimečný trest. | <input type="checkbox"/> | <input type="checkbox"/> |
| 22.2 Každý má právo odepřít výpověď, jestliže by jí způsobil nebezpečí trestního stíhání sobě nebo osobě blízké. | <input type="checkbox"/> | <input type="checkbox"/> |
| 22.3 Občanům příslušejícím k národnostním a etnickým menšinám se za podmínek stanovených zákonem zaručuje též právo na vzdělání v jejich jazyce. | <input type="checkbox"/> | <input type="checkbox"/> |
-

max. 2 body

23 Rozhodněte o každém z následujících výroků, zda popisuje většinový volební systém (ANO), či nikoli (NE):

- | | A | N |
|--------------------------------------------------------------------------------------------|--------------------------|--------------------------|
| 23.1 Tento volební systém posiluje stabilitu politické moci. | <input type="checkbox"/> | <input type="checkbox"/> |
| 23.2 V rámci volebního obvodu je zvolen pouze jediný kandidát. | <input type="checkbox"/> | <input type="checkbox"/> |
| 23.3 Tento volební systém přesněji odráží rozložení politických preferencí ve společnosti. | <input type="checkbox"/> | <input type="checkbox"/> |
-

max. 3 body

24 Rozhodněte o každém z následujících tvrzení, zda je v souladu s volebními pravidly v ČR (ANO), či nikoli (NE):

- | | A | N |
|-----------------------------------------------------------------------------------------------|--------------------------|--------------------------|
| 24.1 Volit lze pouze ve dnech a v časech, které jsou stanoveny zákonem. | <input type="checkbox"/> | <input type="checkbox"/> |
| 24.2 Každý volič musí na volební lístek napsat své jméno a zdůvodnění své volby. | <input type="checkbox"/> | <input type="checkbox"/> |
| 24.3 Ve volbách smějí volit pouze občané s největšími příjmy a největším majetkem. | <input type="checkbox"/> | <input type="checkbox"/> |
| 24.4 Právo hlasovat ve volbách mají právoplatní voliči, ale každý z nich má pouze jeden hlas. | <input type="checkbox"/> | <input type="checkbox"/> |

VÝCHOZÍ TEXT K ÚLOZE 25

**JAK POMOCI OBČANŮM?
STOP REFORMÁM VLÁDY, KTERÉ ŠKODÍ NÁM VŠEM!**

BEZPROSTŘEDNÍ CÍLE STRANY:

Zdravotní péče hrazená z veřejného zdravotního pojištění!
Odmítnutí všech forem školného, finančně dostupné bydlení!
Státem garantované důchody!
Zastavení privatizace veřejných služeb a zbytků strategických podniků ve vlastnictví státu!
Stop miliardovým náhradám církvím!

(CERMAT)

2 body

25 Jaké politické orientace je nejspíše strana, která vydala tento leták?

- A) levicové
- B) středové
- C) pravicové
- D) krajně pravicové

2 body

26 Co se stane, pokud k volbám do Evropského parlamentu přijde v ČR 49 % voličů?

- A) Volby platí.
- B) Volby se konají v ČR znovu.
- C) Volby se konají ve všech státech EU znovu.
- D) Volby platí až po schválení Parlamentem ČR.

VÝCHOZÍ TEXT K ÚLOZE 27

Je územním společenstvím občanů, které má právo na samosprávu. Je veřejnoprávní korporací, která má vlastní majetek a vlastní příjmy vymezené zákonem a hospodaří za podmínek stanovených zákonem podle vlastního rozpočtu. Vystupuje v právních vztazích svým jménem a nese odpovědnost z těchto vztahů vyplývající.

Je samostatně spravován/a zastupitelstvem, dalšími orgány jsou rada, hejtman a úřad.

(Zákon č. 129/2000 Sb., ve znění pozdějších předpisů, upraveno)

2 body

27 Která z územních jednotek České republiky je charakterizována ve výchozím textu?

- A) kraj
- B) obec
- C) okres
- D) země

28 Co znamená, že je někdo stínový ministr?

- A) Je poradcem ministra.
- B) Je v opozici vůči vládě.
- C) Je členem jmenované vlády.
- D) Je v koalici s vládními stranami.

VÝCHOZÍ TEXT K ÚLOZE 29

***** je jeden ze tří demokratických politických směrů. Jeho podstatou je důraz na řád a pořádek. Často je spojován s pravou částí politického spektra, je ovšem mnohem starší než toto politické dělení a v mnoha ohledech se mu vymyká. S liberalismem má společný důraz na soukromé vlastnictví, se socialismem důraz na hodnotu každého člověka ve společnosti, tedy sociální zabezpečení. Je ideologií, jejíž hlavní charakteristikou je otevřená tendence bránit se rychlým změnám a podporovat tradiční normy. Upřednostňuje hodnoty vyplývající z náboženských, kulturních a národních zkušeností a zvyků.

(www.referaty.cz, upraveno)

2 body

29 Která z následujících ideologií patří na vynechané místo (*****) ve výchozím textu?

- A) fašismus
- B) anarchismus
- C) nacionalismus
- D) konzervatismus

VÝCHOZÍ OBRÁZEK K ÚLOZE 30



(www.google.cz, upraveno)

2 body

30 Který nápis chybí na pásce standarty prezidenta České republiky na výchozím obrázku?

- A) Pravda vítězí
- B) Nedej zahynouti
- C) Česká republika
- D) Čechy, Morava, Slezsko

VÝCHOZÍ TEXT K ÚLOZE 31

V Poslanecké sněmovně Parlamentu ČR je v současnosti schváleno znění novely zákona č. 235/2004 Sb., o dani z přidané hodnoty. V této chvíli je na cestě do *****. V případě, že ***** návrh schválí, vyjádří vůli se jím nezabývat, nebo se nevyjádří do 30 dnů, postupuje se přijatý zákon prezidentovi republiky.

(www.cnz.cz, upraveno)

2 body

31 Napište oficiální název ústavního orgánu ČR, který patří na vynechaná místa (*****) ve výchozím textu:

2 body

32 Napište další ústavní orgán, který je kromě prezidenta České republiky pověřen nejvyšší výkonnou státní mocí:

2 body

33 Seřadte jednotlivé právní předpisy (A–E) hierarchicky od nejvyšší právní síly po nejnižší právní sílu (33.1–33.5):

A) zákon

B) nařízení obce

C) nařízení kraje

D) nařízení vlády

E) zákonné opatření Senátu

33.1 _____

33.2 _____

33.3 _____

33.4 _____

33.5 _____

2 body

34 Jaký je další osud zákona, víme-li, že „Sněmovna dnes přehlasovala prezidentské veto, a tím schválila zákon o registrovaném partnerství“?

A) Zákon je tímto hlasováním definitivně schválen.

B) O zákoně ještě bude znovu hlasovat Senát, pokud ho schválí, bude platit.

C) Zákon projedná ještě vláda, pokud se k němu kladně vyjádří, začne platit.

D) Zákon bude opět postoupen ke schválení prezidentu republiky, pokud ho schválí, bude platit.

VÝCHOZÍ TEXT K ÚLOZE 35

Zaměstnankyně nastoupí do práce dnem 1. 3. 2010 a bude vykonávat práci uklízečky. Pracovní poměr se sjednává na dobu neurčitou. Zkušební doba se sjednává v délce tří měsíců. Za vykonanou práci jí přísluší mzda ve výši 10 000 Kč měsíčně.

(CERMAT)

2 body

35 Která z náležitostí, jež musí pracovní smlouva podle zákoníku práce obsahovat, ve výchozím textu chybí?

A) pracovní náplň

B) místo výkonu práce

C) způsob odměňování

D) informace o dovolené

VÝCHOZÍ TEXT K ÚLOZE 36

Soud zrušil říjnové volby

Soud vyhověl stížnosti jednoho z poslanců. Předčasné volby se tak ve dnech 9. a 10. října konat nebudou. Poslanec si stěžoval na zákon o jednorázovém zkrácení volebního období Sněmovny. Soud mu dal zapravdu – zmíněný zákon se s okamžitou platností ruší, oznámil předseda soudu.

(MF DNES 10. 9. 2009)

2 body

36 O kterém soudu se píše ve výchozím textu?

- A) o Ústavním soudu
- B) o krajském soudu
- C) o okresním soudu
- D) o Nejvyšším soudu

VÝCHOZÍ TEXT K ÚLOZE 37

Soukromá osoba poskytující právní služby, jejíž činnost je upravena speciálním zákonem. Uděluje právní porady, sepisuje listiny, zejména smlouvy, zpracovává právní rozbor, zastupuje fyzické a právnické osoby, obhajuje obžalované a obviněné.

(www.portal.justice.cz)

2 body

37 Která právnická profese je popsána ve výchozím textu?

- A) notář
- B) soudce
- C) advokát
- D) státní zástupce

VÝCHOZÍ TEXT K ÚLOZE 38

Josef Navrátil a Petr Novotný založili obchodní společnost, každý s vkladem 100 000,- Kč. Postavili společně továrnu a Petr Novotný se stal zároveň vedoucím provozu. Tato nemovitost se tak dostala do podílového spoluvlastnictví, pro něž je charakteristické, že jednu věc vlastní více vlastníků, aniž by došlo k faktickému rozdělení věci.

(CERMAT)

2 body

38 Jaký je vzájemný poměr podílů Josefa Navrátila a Petra Novotného?

- A) 30:70
- B) 40:60
- C) 50:50
- D) 80:20

max. 2 body

39 Přiřadte k jednotlivým právním skutečnostem (39.1–39.3) jejich odpovídající označení (A–E):

- 39.1 Je základním a nejčastějším druhem pracovněprávního vztahu, který se sjednává písemně. V dokumentu se uvedou konkrétní sjednané podmínky mezi zaměstnancem a zaměstnavatelem. _____
- 39.2 Provedení konkrétního úkolu na určitý vymezitelný pracovní obsah a neomezenou dobu. Může se jednat o montáž určité věci, její údržbu, provedení dohodnuté opravy nebo úpravy určité věci nebo hmotně zachycený výsledek jiné činnosti. _____
- 39.3 Sjednává se zpravidla na práce omezeného rozsahu, např. může jít o tlumočnickou činnost, průzkum trhu, výuku v kurzech apod. Rozsah práce nesmí být větší, než stanoví zákon, přičemž se započítává i předcházející doba práce konaná zaměstnancem pro téhož zaměstnavatele ve stejném roce. _____

- A) smlouva o dílo
B) pracovní smlouva
C) mandátní smlouva
D) dohoda o provedení práce
E) dohoda o pracovní činnosti

VÝCHOZÍ TEXT K ÚLOZE 40

Společné jmění manželů (SJM) je institut, který nahradil v našem právním řádu „bezpodílové spoluvlastnictví manželů“. Společné jmění může vzniknout pouze a výlučně mezi manželi. Nelze uzavřít manželství bez toho, aby alespoň v některém okamžiku jeho trvání nevzniklo společné jmění manželů. Do společného jmění manželů patří aktiva – majetek nabytý některým z manželů nebo jimi oběma společně za trvání manželství, s výjimkou majetku získaného dědictvím nebo darem, majetku nabytého jedním z manželů náležejícího do výlučného vlastnictví tohoto manžela. Zároveň do SJM patří i pasiva, tedy závazky, které některému z manželů nebo oběma manželům společně vznikly za trvání manželství.

(www.zbynekmlcoch.cz)

max. 3 body

40 Rozhodněte o každé z následujících položek, zda patří do společného jmění manželů (ANO), či nikoli (NE):

- | | A | N |
|-----------------------------------------------------------------------------------------|--------------------------|--------------------------|
| 40.1 Televizor, který si manželé Velcovi koupili během trvání manželství. | <input type="checkbox"/> | <input type="checkbox"/> |
| 40.2 Paní Nekolová si vzala v době manželství úvěr v bance na novou kuchyň. | <input type="checkbox"/> | <input type="checkbox"/> |
| 40.3 Dar, který pan Dvořáček obdržel od svých rodičů během trvání manželství. | <input type="checkbox"/> | <input type="checkbox"/> |
| 40.4 Byt paní Novákové, který získala ještě před vstupem do manželství s panem Novákem. | <input type="checkbox"/> | <input type="checkbox"/> |

max. 2 body

41 Rozhodněte o každé z následujících možností, zda je příkladem rozvojové spolupráce (ANO), či nikoli (NE):

	A	N
41.1 distribuce léků a potravin v důsledku zemětřesení	<input type="checkbox"/>	<input type="checkbox"/>
41.2 program zřizování škol z důvodu zvyšování gramotnosti	<input type="checkbox"/>	<input type="checkbox"/>
41.3 projekt podpory domácí produkce potravin v chudých zemích	<input type="checkbox"/>	<input type="checkbox"/>

VÝCHOZÍ TEXT K ÚLOZE 42

V zemích třetího světa, především v některých regionech Afriky a Asie, se projevuje tzv. „push“ faktor, což znamená, že díky velice rychle rostoucí populaci a časté nemožnosti zapojit se do prakticky neexistujícího nebo velmi limitovaného ekonomického života ve vlastní zemi jsou lidé nuceni opouštět přelidněné a sociálně a ekonomicky strádající oblasti.

(Společný svět, Člověk v tísní, upraveno)

2 body

42 Který z následujících jevů je popsán ve výchozím textu?

- A) migrace
- B) pandemie
- C) terorismus
- D) globalizace

2 body

43 Která z následujících možností nepatří mezi společné politiky Evropské unie?

- A) měnová
- B) obchodní
- C) zdravotní
- D) zemědělská

VÝCHOZÍ MAPA K ÚLOZE 44



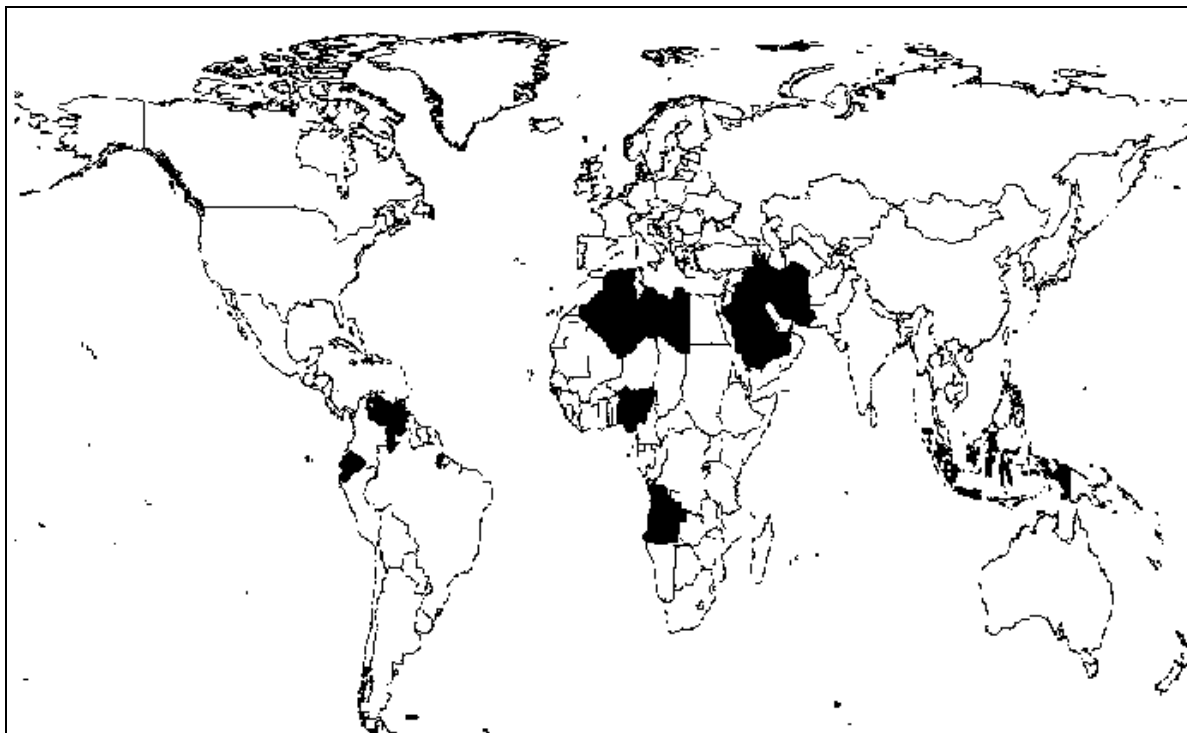
(www.wikipedie.cz)

2 body

44 Které státy jsou na mapě označeny tmavě?

- A) členské státy organizace UNICEF
- B) všechny členské státy Evropské unie
- C) členské státy schengenského prostoru
- D) všechny členské státy Severoatlantické aliance

VÝCHOZÍ MAPA K ÚLOZE 45



(www.google.cz, upraveno)

2 body

45 Na mapě jsou tmavě označeny všechny členské státy jedné mezinárodní organizace. Které?

- A) FAO
- B) WTO
- C) WHO
- D) OPEC

ZKONTROLUJTE, ZDA JSTE DO ZÁZNAMOVÉHO ARCHU UVEDL/A VŠECHNY ODPOVĚDI.