

DĚJEPIS

DEM0D11C0T01

DIDAKTICKÝ TEST

Maximální bodové hodnocení: 100 bodů
Hranice úspěšnosti: 33 %

1 Základní informace k zadání zkoušky

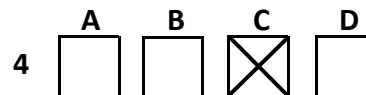
- Didaktický test obsahuje 47 úloh.
- Časový limit pro řešení didaktického testu je uveden na záznamovém archu.
- Povolené pomůcky: pouze psací potřeby.
- U každé úlohy je uveden maximální počet bodů.
- U všech úloh/podúloh je právě jedna odpověď správná.
- Za nesprávnou nebo neuvedenou odpověď se body neodečítají.
- Odpovědi pište do záznamového archu.
- Poznámky si můžete dělat do testového sešitu, nebudou však předmětem hodnocení.
- Nejednoznačný nebo nečitelný zápis odpovědi bude považován za chybné řešení.

2 Pravidla správného zápisu odpovědí

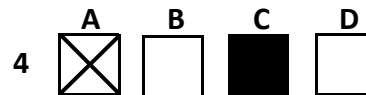
- Odpovědi zaznamenávejte modrou nebo černou propisovací tužkou, která píše dostatečně silně a nepřerušovaně.
- Hodnoceny budou pouze odpovědi uvedené v záznamovém archu.

2.1 Pokyny k uzavřeným úlohám

- Odpověď, kterou považujete za správnou, zřetelně zakřížkujte v příslušném bílém poli záznamového archu, a to přesně z rohu do rohu dle obrázku.



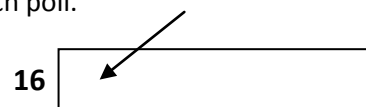
- Pokud budete chtít následně zvolit jinou odpověď, zabarvíte pečlivě původně zakřížkované pole a zvolenou odpověď vyznačte křížkem do nového pole.



- Jakýkoli jiný způsob záznamu odpovědí a jejich oprav bude považován za nesprávnou odpověď.
- Pokud zakřížkujete více než jedno pole, bude vaše odpověď považována za nesprávnou.

2.2 Pokyny k otevřeným úlohám

- Odpovědi pište čitelně do vyznačených bílých polí.



- Povoleno je psací i tiskací písmo a číslice.
- Při psaní odpovědí rozlišujte velká a malá písmena.
- Pokud budete chtít následně zvolit jinou odpověď, pak původní odpověď přeškrtněte a novou odpověď запиšte do stejného pole. Vaše odpověď nesmí přesáhnout hranice vyznačeného pole.

Testový sešit neotvírejte, počkejte na pokyn!

VÝCHOZÍ OBRÁZEK A TEXT K ÚLOZE 1



(dobová fotografie)

Na fotografii je zachycen tehdejší československý prezident Antonín Novotný, jak hovoří se sovětským kosmonautem a prvním mužem ve vesmíru Jurijem Alexejevičem Gagarinem.

(CERMAT)

2 body

1 Ve kterém roce došlo k události zachycené na výchozím obrázku?

- A) 1957
- B) 1961
- C) 1969
- D) 1973

VÝCHOZÍ OBRÁZEK A TEXT K ÚLOZE 2



(www.valka.cz)

Fotografie, pocházející z prvních let studené války, zachycuje konvoj americké armády překračující 38. rovnoběžku.

(CERMAT)

2 body

2 Napište název ozbrojeného konfliktu, ke kterému odkazují výchozí obrázek a text:

VÝCHOZÍ TEXT K ÚLOZE 3

Tyto nápravně-pracovní tábory začaly být budovány již v průběhu Leninovy vlády. Vězni z těchto táborů byli využíváni k otrocké práci. Mezi lety 1930 až 1953 zemřelo v důsledku otřesných životních podmínek odhadem 1,7 milionu vězňů. Jedním z nejznámějších vězňů těchto táborů byl Alexandr Solženicyn.

(CERMAT)

2 body

3 Napište jednoslovné označení táborů popsaných ve výchozím textu:

max. 2 body

4 Rozhodněte na základě svých znalostí o každém z následujících tvrzení, zda je pravdivé (ANO), či nikoli (NE):

	A	N
4.1 „Šestidenní válku“ zahájil Izrael útokem na vzdušné síly Egypta.	<input type="checkbox"/>	<input type="checkbox"/>
4.2 Soupeřem Izraele v „Šestidenní válce“ byla koalice arabských států vedená Saúdskou Arábií.	<input type="checkbox"/>	<input type="checkbox"/>
4.3 Po skončení „Šestidenní války“ získal Izrael kontrolu nad pásmem Gazy a Západním břehem Jordánu.	<input type="checkbox"/>	<input type="checkbox"/>

VÝCHOZÍ TEXT K ÚLOZE 5

Prezident Francouzské republiky Charles de Gaulle se musel hned v prvních letech v úřadu vypořádat s konfliktem probíhajícím na území francouzské koloniální državy v severní Africe. Tento mimořádně krvavý konflikt probíhal v letech 1954–1962 a jeho výsledkem byla plná nezávislost kolonie na Francii.

(CERMAT)

2 body

5 Napište název bývalé francouzské kolonie, na jejímž území byl veden konflikt popsaný ve výchozím textu:

2 body

6 Kdo byl v období rané římské republiky označován titulem *pontifex maximus*?

- A) vrchní velitel obrany Říma
- B) předseda plebejského shromáždění
- C) nejvyšší představitel kněžského kolegia
- D) nejvýše postavený úředník římského Senátu

VÝCHOZÍ TEXT K ÚLOZE 7

Tento vynikající řečník, právník, politik a filosof žil v letech 106–43 př. n. l. Jeho projevy vynikaly stylem a logickou argumentací. V roce 63 př. n. l. byl zvolen konzulem a zabránil Catilinově pokusu o svržení republiky, z tohoto období také pochází proslulé řeči proti Catilinovi. Stejnou míru řečnického umu prokázal i ve svém boji proti Marku Antoniovi.

(CERMAT)

2 body

7 Napište jméno římského politika popsaného ve výchozím textu:

VÝCHOZÍ TEXT K ÚLOZE 8

Byl prvním křesťanským císařem Říma. Se svým spoluvladařem Liciniem vydali v roce 313 n. l. Edikt milánský, jenž zaručoval náboženskou svobodu všem obyvatelům římské říše.

(CERMAT)

2 body

8 Napište jméno římského císaře popsaného ve výchozím textu:

2 body

9 Napište název hnutí, jehož stoupenci bojovali v Byzanci proti uctívání obrazů svatých a Ježíše Krista:

VÝCHOZÍ TEXT K ÚLOZE 10

V prosinci 1991, necelé dva týdny po podpisu Bělověžské dohody, byl podepsán Alma-Atský protokol, jenž definitivně potvrdil zánik *****.

(CERMAT)

2 body

10 Napište název státu, který patří na vynechané místo (***) ve výchozím textu:**

max. 2 body

11 Rozhodněte o každém z následujících tvrzení o Varšavské smlouvě, zda je pravdivé (ANO), či nikoli (NE):

- | | A | N |
|--|--------------------------|--------------------------|
| 11.1 Mezi její členy patřila také Rumunská socialistická republika. | <input type="checkbox"/> | <input type="checkbox"/> |
| 11.2 Albánská lidová republika se formálně v první polovině šedesátých let přestala podílet na práci Varšavské smlouvy, ale smlouvu nikdy nevypověděla. | <input type="checkbox"/> | <input type="checkbox"/> |
| 11.3 Varšavská smlouva byla vojenským uskupením socialistických států východní Evropy, které vzniklo v roce 1964 jako reakce na eskalaci napětí ve Vietnamu. | <input type="checkbox"/> | <input type="checkbox"/> |

VÝCHOZÍ OBRAZ K ÚLOZE 12



(www.radio.cz)

2 body

12 Která z následujících událostí se odehrává na uvedené reprodukci obrazu malíře Václava Brožíka?

- A) Císař Leopold I. přijímá roku 1692 poselstvo Chodů vedené Janem Sladkým Kozinou.
- B) Účastníci českého zemského sněmu roku 1458 volí za nového krále Jiřího z Poděbrad.
- C) Česká šlechta se roku 1547 po potlačení povstání podřizuje Ferdinandu I. Habsburskému.
- D) Zástupci moravské šlechty vítají roku 1333 nového markraběte Václava (budoucího krále Karla IV.).

VÝCHOZÍ OBRÁZEK K ÚLOZE 13



(dobová rytina)

2 body

13 Ke kterému válečnému konfliktu se vztahuje výchozí obrázek?

- A) třicetiletá válka
- B) nizozemské války
- C) napoleonské války
- D) válka o španělské dědictví

VÝCHOZÍ OBRÁZEK K ÚLOZE 14



(Národní archiv, ČDKM 59 b)

2 body

14 Která z následujících pomocných věd historických se nejvíce zabývá studiem objektů znázorněných na výchozím obrázku?

- A) sfragistika
- B) paleografie
- C) kodikologie
- D) numismatika

VÝCHOZÍ TEXT K ÚLOZE 15

Na to slavná deputace
volena jest byla,
jež by přání české země
králi předložila;
než však slavné to vyslanství
Praze sbohem dalo,
poslechněte, lidé milí,
co se s Vídní stalo.

Zatím Vídeň prapor bouře
proti vládě vzesla,
tekla krev a jedním rázem
stará vláda klesla;
Metrnich ten tyran krutý
králův špatný rádce
svržen jest a z Vídně prchnul
lichý zemězrádce.

(z kramářské písně)

2 body

15 Ke kterému datu se vztahuje situace vyličená ve výchozím textu?

- A) 1789
- B) 1848
- C) 1867
- D) 1914

max. 2 body

16 Přiřaďte ke každému jménu osobnosti (16.1–16.3) příslušnou charakteristiku (A–D):

- 16.1 Josef Jungmann _____
16.2 František Palacký _____
16.3 Gelasius Dobner _____

- A) Redaktor Národních novin, autor epigramů a satirických popěveků. Pro odpor proti absolutismu na stránkách Národních novin a později Slovanu byl několikrát souzen a nakonec strávil několik let ve vyhnanství.
- B) Propagátor kritické metody založené na studiu písemných pramenů v dějepisectví. Proslul kritickým rozbohem připraveného vydání Kroniky české Václava Hájka z Libočan, řadu pramenů vydal v edici Monumenta historica Bohemica.
- C) Usiloval o vymezení teoretických základů pro nový vývoj českého jazyka. Přeložil např. Slovo o pluku Igorově, díla Miltona, Chateaubrianda či Goetheho, autor pětidílného Slovníku česko-německého, jednoho ze základních kamenů pro ustavení normy spisovné češtiny.
- D) Ve svém ústředním díle, pětisvazkových Dějinách národa českého v Čechách a v Moravě, vyzdvihl jako nejslavnější období českých dějin husitství. Představitel austroslavismu, myšlenky sjednocení Slovanů v rámci federalizované rakouské říše. Spolu s F. L. Riegrem stál v čele staročeského křídla národní strany.

VÝCHOZÍ MAPA K ÚLOZE 17



(www.wikipedia.cz)

2 body

17 Kterému století odpovídá rozsah Osmanské říše na výchozí mapě?

- A) 11. století
B) 14. století
C) 16. století
D) 19. století

VÝCHOZÍ TEXT K ÚLOZE 18

Z Norska dostáváme první, ještě neurčitě zprávy o bojích a odporu. Přeji si, aby to byla pravda, jednak pro ohlas, jaký tak nerovný boj vyvolá ve světě, jednak proto, že to dokáže, že jsou ještě národy, které dovedou bojovat, aby zachovaly lidskou důstojnost. Zprávy o německé kampani na severu vyvolaly příznivý ohlas lidu, jenž je, jak říká Mussolini, „běhnou, která dá přednost chlapovi, jenž vyhrává“. Více než rychlost německého jednání překvapuje nedostatek reakcí u Francouzů a Britů, kteří na Hitlerovy vojenské úspěchy odpovídají ofenzivou proslovů a článků válečným účelům zcela nevhodných [...].“

(Galeazzo Ciano, Deník 1939–1943)

max. 3 body

18 Rozhodněte na základě uvedeného textu o každém z následujících tvrzení, zda je pravdivé (ANO), či nikoli (NE):

	A	N
18.1 Situace popisovaná v deníku se vztahuje k událostem roku 1942.	<input type="checkbox"/>	<input type="checkbox"/>
18.2 V reakci na útok a okupaci Norska vyhlásily USA válku Německu.	<input type="checkbox"/>	<input type="checkbox"/>
18.3 Autor výchozího textu byl ministrem zahraničních věcí Španělska.	<input type="checkbox"/>	<input type="checkbox"/>
18.4 Popisovaný úsek druhé světové války bývá nazýván mj. „podivná válka“.	<input type="checkbox"/>	<input type="checkbox"/>

max. 3 body

19 Přiřadte ke každé vládnoucí dynastii (19.1–19.4) příslušnou zemi (A–F):

- 19.1 Piastovci _____
19.2 Rurikovci _____
19.3 Kapetovci _____
19.4 Arpádovci _____

- A) Uhry
B) Sasko
C) Anglie
D) Polsko
E) Francie
F) Kyjevská Rus

2 body

20 Který z následujících šlechtických rodů byl v první polovině 16. století spojován s těžbou stříbra a ražbou tzv. tolarů na území Českého království?

- A) Šlikové
B) Mansfeldové
C) Valdštejnové
D) Rožmberkové

2 body

21 Který z následujících konfliktů byl ukončen Vestfálským mírem?

- A) husitské války
 - B) turecká válka
 - C) třicetiletá válka
 - D) válka o dědictví rakouské
-

2 body

22 Odkud pochází umělecký styl renesance?

- A) z Itálie
 - B) z Anglie
 - C) z Francie
 - D) z Německa
-

2 body

23 Která z následujících možností odpovídá pojmu *reconquista*?

- A) dobývání Ameriky Španěly v 15. století
 - B) napadení Anglie španělským loďstvem v 16. století
 - C) vytlačení Maurů z Pyrenejského poloostrova katolíky
 - D) rozšíření území Španělska během válek o španělské dědictví
-

VÝCHOZÍ TEXT K ÚLOZE 24

Václav Knobloch i Mikuláš Puchník museli před narychlo přivolaným veřejným notářem složit přísahu, v níž se zavázali, že nikdy nikomu neprozradí, co byli nuceni z královy vůle prožít. Nešťastný Johánek z Pomuka přísahat nemohl. Když ho sňali z mučidel, byl zřejmě v bezvědomí a za několik okamžiků vydechl naposledy. Katovi pacholci svázali mrtvolu do kozelce a vlekli ji zšeřelými uličkami Starého Města až na most. Odtud kolem deváté hodiny večer svrhli tělo generálního vikáře do Vltavy.

(dobová kronika)

2 body

24 Za vlády kterého českého panovníka se staly události uvedené ve výchozím textu?

- A) za vlády Josefa I.
- B) za vlády Václava IV.
- C) za vlády Boleslava II.
- D) za vlády Ferdinanda III.

2 body

25 Které z následujících období se vyznačovalo značným rozšířením kultu sv. Jana Nepomuckého v českých zemích?

- A) gotika
- B) baroko
- C) renesance
- D) klasicismus

VÝCHOZÍ TEXT K ÚLOZE 26

Mezinárodní pakt o občanských a politických právech a Mezinárodní pakt o hospodářských, sociálních a kulturních právech, které byly jménem naší republiky podepsány v roce 1968, stvrzeny v Helsinkách roku 1975 a vstoupily u nás v platnost dnem 23. 3. 1976. [...] Vítáme proto, že ČSSR k těmto paktům přistoupila.

Jejich zveřejnění nám ale s novou naléhavostí připomíná, kolik základních občanských práv platí v naší zemi zatím – bohužel – jen na papíře. Zcela iluzorní je např. právo na svobodu projevu. [...] Desítkám tisíc našich občanů je znemožněno pracovat v jejich oboru jen proto, že zastávají názory odlišné od názorů oficiálních. Jsou přitom často objektem nejrozmanitější diskriminace a šikanování ze strany úřadů i společenských organizací; zbaveni jakékoli možnosti bránit se [...].

(Vzhledem k povaze úlohy není zdroj výchozího textu uveden.)

2 body

26 Napište název dokumentu, ze kterého pochází výchozí text:

VÝCHOZÍ TEXT K ÚLOZE 27

Po Pyrenejském míru uzavřeném v roce 1659, získalo ***** nepopiratelnou prestiž a začalo období jeho mocenského vzestupu: úhlavní nepřátelé římsko-německá říše a Španělsko byli poraženi a byli u konce s dechem – alespoň dočasně. Se svými osmnácti miliony obyvatel to byla nejhustěji zalidněná země v Evropě, zemědělsky soběstačná a navíc s rozvinutým průmyslem.

(F. Delouche a kol., Dějiny Evropy, upraveno)

2 body

27 Který z následujících států patří na vynechané místo (*****) ve výchozím textu?

- A) Dánsko
- B) Švédsko
- C) Bavorsko
- D) Nizozemí

max. 3 body

28 Rozhodněte o každém z následujících tvrzení o boji o investituru, zda je pravdivé (ANO), či nikoli (NE):

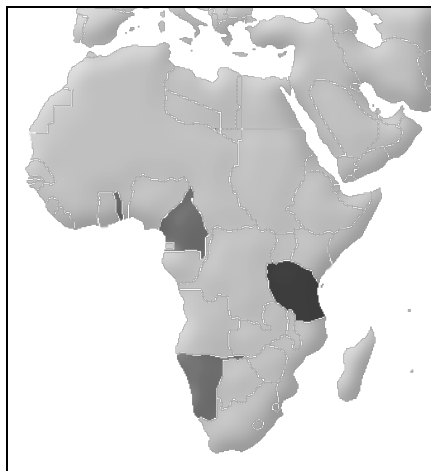
	A	N
28.1 Období sporů spadá do 14. století.	<input type="checkbox"/>	<input type="checkbox"/>
28.2 Výsledkem sporu bylo přijetí tzv. Wormského konkordátu.	<input type="checkbox"/>	<input type="checkbox"/>
28.3 Předmětem sporu byl vliv na jmenování církevních hodnostářů.	<input type="checkbox"/>	<input type="checkbox"/>
28.4 Boj o investituru byl konfliktem mezi papežem a byzantským císařem.	<input type="checkbox"/>	<input type="checkbox"/>

2 body

29 Kým bylo založeno dnešní město New York ve Spojených státech amerických?

- A) Španěly
- B) Angličany
- C) Francouzi
- D) Nizozemci

VÝCHOZÍ MAPA K ÚLOZE 30



(www.wikipedia.cz)

2 body

30 Na mapě jsou tmavou barvou vyznačeny bývalé kolonie jednoho evropského státu. Kterého?

- A) Belgie
- B) Německa
- C) Holandska
- D) Portugalska

2 body

31 Napište jméno významného starobabylónského vládce z 18. stol. před. n. l., který pro svou říši vytvořil správní systém a sestavil zákoník nesoucí jeho jméno:

VÝCHOZÍ TEXT K ÚLOZE 32

Lovci a sběrači se sdružovali do menších sociálních uskupení, jejichž prostřednictvím si zajišťovali obživu a ochranu. Jako materiál k výrobě nástrojů používali především kámen, dřevo nebo kosti zvířat. Obvykle se udává, že ve střední Evropě počátky tohoto období sahají do doby asi před dvěma a půl miliony let.

(CERMAT)

2 body

32 Napište název prehistorického období, o kterém se píše ve výchozím textu:

2 body

33 Seřad'te chronologicky následující události (A–D):

- A) vydání silvestrovských patentů
- B) zrušení poddanství v habsburské monarchii
- C) přijetí prosincové ústavy v Rakousku (Předlitavsku)
- D) volby podle všeobecného volebního práva v Rakousku-Uhersku

- 33.1 _____
- 33.2 _____
- 33.3 _____
- 33.4 _____

2 body

34 Seřad'te chronologicky následující události (A–D):

- A) vydání Zlaté buly sicilské
- B) založení pražského biskupství
- C) příchod Konstantina a Metoděje na Velkou Moravu
- D) vyhlášení stařešinského (seniorátního) řádu v Čechách

- 34.1 _____
- 34.2 _____
- 34.3 _____
- 34.4 _____

2 body

35 Seřadte chronologicky následující události (A–D):

- | |
|--------------------------------------|
| A) Rašínova měnová reforma |
| B) proces s dr. M. Horákovou |
| C) komunistický převrat v ČSR |
| D) velká hospodářská (světová) krize |

- 35.1 _____
35.2 _____
35.3 _____
35.4 _____
-

2 body

36 Součástí mírových smluv po 1. světové válce byla i smlouva uzavřená v Trianonu. Se kterým poraženým státem zde byla tato smlouva podepsána?

- A) s Tureckem
B) s Německem
C) s Rakouskem
D) s Maďarskem
-

2 body

37 Který z následujících politiků nepatří do skupiny tzv. mužů 28. října?

- A) Jiří Stříbrný
B) Antonín Švehla
C) František Soukup
D) František Modráček

VÝCHOZÍ TEXT K ÚLOZE 38

„Kolkování bankovek bylo provedeno v týdnu od 3. do 9. března, na Slovensku do devatenáctého března. V noci z 25. na 26. února byly vojskem obsazeny hranice po celé délce a všechna doprava osob i zboží přes ně zastavena, přerušena i poštovní styk s cizinou, tak měl být zamezen dovoz bankovek zvenčí. Nyní tedy, pouhým okolkováním bankovek na československém území, se oddělovaly obě měny.“

(F. Peroutka, *Budování státu*)

2 body

38 Ve kterém roce proběhla událost popisovaná ve výchozím textu?

- A) 1919
- B) 1921
- C) 1923
- D) 1924

max. 3 body

39 Přiřadte ke každému dokumentu (39.1.–39.4) rok jeho vzniku (A–E):

- 39.1 Mnichovská dohoda _____
- 39.2 Brežněvova doktrína _____
- 39.3 Washingtonské deklarace _____
- 39.4 Česko-německá deklarace o vzájemných vztazích _____

- A) 1918
- B) 1938
- C) 1945
- D) 1968
- E) 1997

2 body

40 Kterým z následujících období se zabýval historik Dušan Třeštík (1933–2007) ve svém díle především?

- A) napoleonské války
- B) osvícenství ve Francii
- C) raný středověk v Čechách
- D) první Československá republika

VÝCHOZÍ TEXT K ÚLOZE 41

Dne 6. června přijel první vlak z Vídně na pomezí moravské. [...] V Břeclavi byl pravý národní svátek. Ačkoliv byl všední den, scházeli se venkované v proudech, aby tuto událost oslavili hudbou, zpěvem a tancem. Hudba vyhrávala pro kratochvíli netrpělivě čekající honoraci i venkovskému lidu, který v krojích očekával příjezd prvního vlaku na Moravu a připravoval moždíře k uvítání [...].

(z dobového tisku)

2 body

41 Ke kterému datu se vztahuje situace vyličená ve výchozím textu?

- A) 1797
- B) 1839
- C) 1885
- D) 1912

VÝCHOZÍ TEXT K ÚLOZE 42

***** hnutí svrhlo chladnou racionalitu z trůnu vládce lidského jednání a na její místo dosadilo srdce, city, fantazii. Setřelo hranice mezi realitou a mýtem, oblíbenou postavou se stal rozervanec trpící rozporem mezi neuskutečnitelnými ideály a přízemní skutečností, která jej obklopuje. Jeho vlna s sebou přinesla i dosud nebývalý kult lidovosti. Podle dobových představ v sobě nezkažená lidová kultura nesla kontinuitu s evropským pravěkem, v pohádkách a pověstech byly hledány ozvěny starých pohanských mýtů a hrdinských eposů.

(Dějiny země Koruny české, upraveno)

2 body

42 Který z následujících výrazů patří na vynechané místo (***) ve výchozím textu?**

- A) barokní
- B) romantické
- C) renesanční
- D) osvícenské

43 **Přiřadte k jednotlivým charakteristikám (43.1–43.3) jméno příslušného vědce (A–E):** **max. 2 body**

- 43.1 (1578–1657), lékař, objevitel skutečné podstaty krevního oběhu a funkce srdce jako pumpy _____
- 43.2 (1881–1955), bakteriolog, jehož objev penicilinu připravil cestu pro vysoce účinnou praxi léčení infekčních chorob antibiotiky _____
- 43.3 (1904–1967), teoretický fyzik, známý jako ředitel laboratoře v Los Alamos během vývoje atomové pumpy – společné úsilí vědců vyvrcholilo výbuchem první jaderné pumpy 16. 7. 1945, v říjnu téhož roku se své funkce vzdal _____

(100 nejslavnějších vědců, Encyklopedie Britannica, upraveno)

- A) W. Harvey
- B) M. Planck
- C) L. Pasteur
- D) W. Flemming
- E) R. Oppenheimer

44 **Která z následujících plodin nebyla do Evropy přivezena z Ameriky?** **2 body**

- A) rýže
- B) tabák
- C) kukuřice
- D) brambory

45 **Rozhodněte o každém z následujících měst, zda vyrostlo ve středověku ze starších hradeckých center (ANO), či nikoli (NE):** **max. 3 body**

- | | A | N |
|---------------------|--------------------------|--------------------------|
| 45.1 Liberec | <input type="checkbox"/> | <input type="checkbox"/> |
| 45.2 Ostrava | <input type="checkbox"/> | <input type="checkbox"/> |
| 45.3 Olomouc | <input type="checkbox"/> | <input type="checkbox"/> |
| 45.4 Hradec Králové | <input type="checkbox"/> | <input type="checkbox"/> |

2 body

46 Která země se stala při tzv. třetím dělení z roku 1795 obětí svých silnějších sousedů?

- A) Finsko
 - B) Polsko
 - C) Dánsko
 - D) Švédsko
-

max. 3 body

47 Rozhodněte o každém z následujících států, zda se zúčastnil invaze do Československa v roce 1968 (ANO), či nikoli (NE):

	A	N
47.1 Polsko	<input type="checkbox"/>	<input type="checkbox"/>
47.2 Maďarsko	<input type="checkbox"/>	<input type="checkbox"/>
47.3 Jugoslávie	<input type="checkbox"/>	<input type="checkbox"/>
47.4 Rumunsko	<input type="checkbox"/>	<input type="checkbox"/>

ZKONTROLUJTE, ZDA JSTE DO ZÁZNAMOVÉHO ARCHU UVEDL/A VŠECHNY ODPOVĚDI.
