

OBČANSKÝ A SPOLEČENSKOVĚDNÍ ZÁKLAD

základní úroveň obtížnosti

OZMZD12C0T04

DIDAKTICKÝ TEST

Maximální bodové hodnocení: 92 bodů
Hranice úspěšnosti: 33 %

1 Základní informace k zadání zkoušky

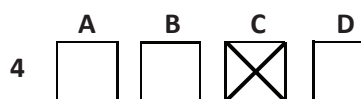
- Didaktický test obsahuje 45 úloh.
- Časový limit pro řešení didaktického testu je uveden na záznamovém archu.
- Povolené pomůcky: pouze psací potřeby.
- U každé úlohy je uveden maximální počet bodů.
- U všech úloh/podúloh je právě jedna odpověď správná.
- Za nesprávnou nebo neuvedenou odpověď se body neodečítají.
- Odpovědi píšete do záznamového archu.
- Poznámky si můžete dělat do testového sešitu, nebudou však předmětem hodnocení.
- Nejednoznačný nebo nečitelný zápis odpovědi bude považován za chybné řešení.

2 Pravidla správného zápisu odpovědí

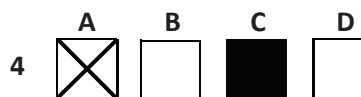
- Odpovědi zaznamenávejte modrou nebo černou propisovací tužkou, která píše dostatečně silně a nepřerušovaně.
- Hodnoceny budou pouze odpovědi uvedené v záznamovém archu.

2.1 Pokyny k uzavřeným úlohám

- Odpověď, kterou považujete za správnou, zřetelně zakřížkujte v příslušném bílém poli záznamového archu, a to přesně z rohu do rohu dle obrázku.



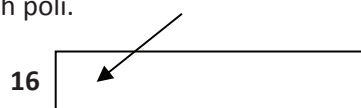
- Pokud budete chtít následně zvolit jinou odpověď, zabarvíte pečlivě původně zakřížkované pole a zvolenou odpověď vyznačíte křížkem do nového pole.



- Jakýkoli jiný způsob záznamu odpovědí a jejich oprav bude považován za nesprávnou odpověď.
- Pokud zakřížkujete více než jedno pole, bude vaše odpověď považována za nesprávnou.

2.2 Pokyny k otevřeným úlohám

- Odpovědi píšete čitelně do vyznačených bílých polí.



- Povoleno je psací i tiskací písmo a číslice.
- Při psaní odpovědí rozlišujte velká a malá písmena.
- Pokud budete chtít následně zvolit jinou odpověď, pak původní odpověď přeškrtněte a novou odpověď zapište do stejného pole. Vaše odpověď nesmí přesáhnout hranice vyznačeného pole.

Testový sešit neotvírejte, počkejte na pokyn!

VÝCHOZÍ TEXT K ÚLOZE 1

Rezervovali jste si místo ve vlaku. Když jste nastoupili, zjistili jste, že na vašem místě již někdo sedí.

(CERMAT)

2 body

1 Která z následujících reakcí na situaci popsanou ve výchozím textu je asertivní?

- A) Rozčílíte se a vyvoláte ostrou hádku.
- B) Nereagujete a zůstanete stát v uličce.
- C) Neřeknete nic a půjdete dál hledat volné místo.
- D) Zdvořile dáte najevo, že jste si toto místo rezervovali.

VÝCHOZÍ TEXT K ÚLOZE 2

Markovi nabízeli, aby se stal členem sportovního oddílu, ale on zatím nemá zájem. Má tento školní rok moc učení.

(CERMAT)

2 body

2 Který z následujících typů sociální skupiny odpovídá postoji Marka ke sportovnímu oddílu v situaci popsané ve výchozím textu?

- A) členská
- B) primární
- C) referenční
- D) nečlenská

VÝCHOZÍ TEXT K ÚLOZE 3

Učitel: „Co si představujete pod pojmem servisní třída?“

Studentka: „Je to skupina, která poskytuje služby kapitalistické ekonomice.“

Učitel: „Jmenujte povolání, která byste zařadila do této skupiny pracujících.“

Studentka: „Jsou to především povolání založená na znalostech, například pracovníci bank a pojišťoven.“

(Vzhledem k povaze úlohy není zdroj výchozího textu uveden.)

2 body

3 Která z následujících společenských věd je tématem rozhovoru popsaného ve výchozím textu?

- A) filozofie
- B) sociologie
- C) psychologie
- D) antropologie

VÝCHOZÍ TEXT K ÚLOZE 4

Masová média jsou schopna formovat způsob tupého nepřemýšlení svých konzumentů – a co horšího: svou medializací, ba adorací zločinu, zločinců a bezvýznamných „hvězdiček“ televize a odkazy na cizokrajné „ideály“, převzaté většinou z obdobných zdrojů ze Západu, zbavují své čtenáře a diváky jakékoli soudnosti. Touto bezohlednou manipulací se stane, že násilí, zločin a dokonce i vražda se zdají být bezmála samozřejmostí. To vše je prováděno ve jménu zisku, bez nejmenších skrupulí, a většina národa si bez tohoto mediálního jedu už život nedovede představit.

(Jan Saudek)

2 body

4 Které z následujících působení médií je popsáno ve výchozím textu?

- A) agitační
- B) bulvární
- C) investigativní
- D) propagandistické

VÝCHOZÍ TEXT K ÚLOZE 5

Pokyny:

- 1) Přesně popiš cestu do školy.
- 2) Označ na mapě místa, která znáš.
- 3) Vyjmenuj historické památky ve svém rodném městě.

(CERMAT)

2 body

5 Který z následujících psychických jevů je nezbytný pro splnění pokynů popsaných ve výchozím textu?

- A) talent
- B) paměť
- C) tvořivost
- D) charakter

VÝCHOZÍ TEXT K ÚLOZE 6

Tatínek taky umí všechno. Všechno to, co neumí maminka. Maminka se ale často plete. „Tatínku“ říká dědečkovi, co ve sklepě něco pilníkuje. A babičce, která v prádelně žehlí, neříká „babičko“, ale „maminko“. Takže je náš dům plný maminek a tatínků. A taky dětí. U nás nejsem dítě jenom já a Eva. „Dítě“ říká babička i mamince. A děda jí říká „naše holka“. Není to k smíchu?

(M. Jágr, F. Nepil, Podívánky)

2 body

6 Který z následujících druhů rodiny je popsán ve výchozím textu?

- A) neúplná
- B) nukleární
- C) pěstounská
- D) vícegenerační

VÝCHOZÍ TEXT K ÚLOZE 7

Martin (17 let) chce odjet s kamarády na víkendovou brigádu, ale má obavu z toho, že mu to nedovolí rodiče. Ti kladou velký důraz na rodinu a vztahy uvnitř ní. Každou sobotu slaví sabat, jeden z nejvýznamnějších svátků, který vlastně začíná už v pátek večer. K tomuto svátku připojuje rabínská tradice mnoho omezení, práce zakázané o sabatu zahrnují mnoho každodenních činností.

(CERMAT)

2 body

7 Ke kterému z následujících náboženství se hlásí Martinovi rodiče?

- A) islám
- B) taoismus
- C) judaismus
- D) křesťanství

VÝCHOZÍ TEXT K ÚLOZE 8

Honza opakovaně ubližuje Martinovi. Posmívá se mu, že je slabý, bere mu svačinu, během přestávek ho nepouští ze třídy a vylévá mu čaj na oblečení. Poslední dobou se k Honzovi přidávají další spolužáci. Martin se tomu neumí nijak bránit a stává se z něj velice tichý chlapec.

(CERMAT)

2 body

8 Napište název sociálně patologického jevu popsaného ve výchozím textu:

VÝCHOZÍ TEXT K ÚLOZE 9

Učitelka češtiny ve třídě právě zadala neohlášený test. Třída byla pobouřena, jen Lukáš zůstal klidný. Netečně přihlížel reakci spolužáků. Věděl, že unáhlenou reakcí situaci nezmění, a tak si začal pomalu pročítat zadání úloh.

(CERMAT)

2 body

9 Napište název typu temperamentu, který nejvíce odpovídá Lukášovi podle jeho reakce na neohlášený test:

2 body

10 Rozhodněte o každém z následujících tvrzení týkajících se učení, zda je pravdivé (ANO), či nikoli (NE):

	A	N
10.1 Zrání a učení jsou ve vzájemné interakci.	<input type="checkbox"/>	<input type="checkbox"/>
10.2 Výsledkem učení jsou jen poznatky a vědomosti.	<input type="checkbox"/>	<input type="checkbox"/>
10.3 Vliv učení na vývoj člověka může být jak pozitivní, tak negativní.	<input type="checkbox"/>	<input type="checkbox"/>

2 body

11 Rozhodněte o každém z následujících tvrzení, zda je projevem heteronomní morálky (ANO), či nikoli (NE):

	A	N
11.1 Matyáš nejedí v MHD bez jízdenky, protože pokuta je moc vysoká a rodiče by se na něho zlobili.	<input type="checkbox"/>	<input type="checkbox"/>
11.2 Lucka nejedí v MHD bez jízdenky, protože v případě kontroly by měla výčitky svědomí, že podváděla.	<input type="checkbox"/>	<input type="checkbox"/>
11.3 Kryštof nejedí v MHD bez jízdenky, protože kdyby ho chytil revizor, kamarádi by se mu smáli, a on by se cítil trapně.	<input type="checkbox"/>	<input type="checkbox"/>

max. 3 body

12 Přiřaďte k jednotlivým popisům (12.1–12.4) odpovídající vývojové období (A–E):

12.1 Matěj často vyhledává společnost vrstevníků a nejraději má kolektivní hry (na schovávanou, zlatá brána).	_____
12.2 Karolína spí denně 16 až 20 hodin. Rozlišuje v podstatě jen dva stavy, které dává najevo křikem (příjemný a nepříjemný).	_____
12.3 Jitka má silnou potřebu být za své výkony chválena. Neustále říká „já sama“. Chce vše dělat sama (oblékat se, jíst, chodit).	_____
12.4 Leoš každý den objevuje nové činnosti, vydrží se jejich opakováním bavit téměř donekonečna (mávání rukou, rozhoupávání hračky).	_____

- A) prenatální období
- B) novorozenecké období
- C) kojenecké období
- D) batolecí období
- E) předškolní věk

2 body

13 Přiřadte k jednotlivým podmínkám odborné a zvláštní způsobilosti k podnikání (13.1–13.3) odpovídající druh živnosti (A–D):

- 13.1 řádné ukončení středního vzdělání s výučním listem v příslušném oboru vzdělání _____
- 13.2 vysokoškolské vzdělání ve studijním programu a studijním oboru příslušného zaměření a 1 rok praxe v oboru nebo vyšší odborné vzdělávání příslušného zaměření a 3 roky praxe _____
- 13.3 vysokoškolské vzdělání ve studijním programu a studijním oboru příslušného zaměření, 3 roky praxe, vydání souhlasu příslušného orgánu státní správy nebo orgánu odborného dozoru _____

- A) volná
B) vázaná
C) řemeslná
D) koncesovaná

max. 2 body

14 Přiřadte k jednotlivým životním situacím (14.1–14.3) odpovídající způsob jejich financování (A–E):

- 14.1 Jana se rozhodla vybavit byt novými kuchyňskými spotřebiči. 20.000,- Kč zaplatí ze svých úspor, 60.000,- Kč si vypůjčí v bance. _____
- 14.2 Ivan se rozhodl opustit pronajatý městský byt a financovat stavbu vlastního rodinného domu na periferii města. Zaplatí 15 % ceny domu a zbytek bude splácet 25 let. _____
- 14.3 Petr pro svoje podnikání potřebuje nové nákladní auto. Část ceny zaplatí hotově při dodání vozu, 60 % uhradí pravidelnými splátkami a cenu odkupu (poslední mimořádnou splátku) sjedná ve výši 20 %. _____

- A) hypoteční úvěr
B) finanční leasing
C) operativní leasing
D) kontokorentní úvěr
E) spotřebitelský úvěr

VÝCHOZÍ TEXT K ÚLOZE 15

Dva kamarádi se rozhodli, že budou společně podnikat v oboru „Přípravné a dokončovací stavební práce, specializované stavební činnosti“. Každý z nich si chce ponechat rozhodovací pravomoci a shodný podíl na zisku. Dohodli se na vkladu v peněžité formě ve výši 150 000,- Kč za každého. Pro založení této obchodní společnosti je vklad povinný.

(CERMAT)

2 body

15 Kterou z následujících obchodních společností kamarádi zakládají?

- A) akciová společnost
- B) komanditní společnost
- C) veřejná obchodní společnost
- D) společnost s ručením omezeným

VÝCHOZÍ TEXT K ÚLOZE 16

Papírová padesátikoruna s vyobrazením svaté Anežky České na lící straně pozbyla dnem 1. dubna 2011 platnosti. Důvodem k rozhodnutí ***** o ukončení platnosti bankovek byla vyšší trvanlivost mince, a s tím související snížení nákladů na zajištění plynulého peněžního oběhu.

(www.nasepenize.cz, upraveno)

2 body

16 Která z následujících institucí patří na vynechané místo (***) ve výchozím textu?**

- A) Česká národní banka
- B) Ministerstvo financí ČR
- C) Česká obchodní inspekce
- D) Nejvyšší kontrolní úřad ČR

VÝCHOZÍ TABULKA K ÚLOZE 17

měsíc	leden 2011		Základní mzda	hodinová	0	Odměny	715	Základ daně	19084
jméno				měsíční	0	Náhrady		Slevy na dani	0
rodné číslo				úkolová	13527			Sleva na děti	0
ev. číslo	112		Příplatky			dny	Kč	Daňový bonus	0
fond pracovní doby	21.0 dní		dny	Kč	DPN dle ZP	0.0	0.0	Daňový bonus	0
odpracováno	21.0 dní	přesčas	0.0	0.0	DPN nadlim.	0.0	0.0	Záloha na daň	2865
neplacené volno	0.00	So, Ne	0.0	0.0	Dovolená	0.0	0.0	Hrubá mzda	14242
nemoc	0.00	Svátek	0.0	0.0	Dov. proplacená	0.0	0.0	Čistá mzda	9810
čerpáná	0.00	Noc	0.0	0.0	Svátky	0.0	0.0	Srážka	2000
proplacená	0.00	Riziko	0.0	0.0	Hrubý příjem		14242	Penzijní při pojištění	0
zbývá	20.00 dní	Motivační	0.0	0.0	Zdravotní pojištění		641	Dávky nemocenské	0
Záloha	0	Dobírka	7740	Z toho na účet	7740	Sociální pojištění		Ostatní dávky	70
								Hotově:	0
									15.2.2011

(CERMAT)

2 body

17 Kterému z následujících zaměstnanců patří výše uvedený výplatní lístek?

- A) Martina Červená pracuje jako hospodářka ve školní jídelně. Je odměňována časovou mzdou. Její měsíční plat závisí na počtu odpracovaných hodin.
- B) Julie Srnová je kadeřnicí. Je odměňována minimální měsíční mzdou a podílem z tržeb za provedené kadeřnické výkony a prodané kosmetické zboží.
- C) Tomáš Suchý je kovářem. Je zaměstnaný ve společnosti vyrábějící mříže a ozdobná kování. Jeho měsíční mzda je závislá na stupni plnění stanovené výkonové normy.
- D) Jan Svoboda je zaměstnaný jako kvalifikovaný stavební dělník. Měsíčně obvykle překračuje výkonové normy. Protože byl v lednu tři dny nemocen, byla jeho mzda nižší než obvykle.

VÝCHOZÍ TEXT K ÚLOZE 18

Tomáš se vyučil opravářem zemědělských a lesnických strojů. Hned po ukončení školy si s kamarádem otevřel v pronajatém nebytovém prostoru dílnu na opravy zahradních sekaček a motorových pil.

(CERMAT)

2 body

18 Kterou z následujících podmínek nemusí Tomáš splnit při zahájení podnikání?

- A) Přihlásit se k daním na finančním úřadu.
- B) Ohlásit zahájení podnikání a získat živnostenský list.
- C) Získat písemný souhlas majitele objektu k otevření dílny.
- D) Sjednat pojištění odpovědnosti za škody způsobené podnikáním.

VÝCHOZÍ TEXT K ÚLOZE 19

VELKOOBCHOD CitrusPLUS VÁS ZVE
DO NOVĚ OTEVŘENÉ PRODEJNY.

Najdete nás na adrese:

Újezd nad Sázavou, Lesní 32

telefon: 384 241 652

Akce na leden 2012:

pomeranče Navelina (země původu: Španělsko)

Naše cena s DPH: 25,00 Kč/kg

Sleva 5 % pro školní jídelny, domovy mládeže, mateřské školy a jesle

(CERMAT)

2 body

19 Který z následujících cenových nástrojů je popsán ve výchozím textu?

- A) množstevní sleva
- B) diskriminační tvorba ceny
- C) sleva při platbě v hotovosti
- D) využívání tzv. „baťovské ceny“

VÝCHOZÍ TEXT K ÚLOZE 20

Společnost CIS s. r. o. poskytuje služby oprav a údržby výtahů. V současné době zaměstnává 36 pracovníků na plný pracovní úvazek, 15 pracovníků má uzavřenou dohodu o pracovní činnosti. Sídlo společnosti je umístěno v pronajatých nebytových prostorech. Pro služební účely používá 6 vlastních dodávkových vozidel. Společnost dlouhodobě dosahuje velmi dobrých hospodářských výsledků, její měsíční obrat převyšuje 3 miliony Kč.

(CERMAT)

max. 3 body

20 Rozhodněte o každém z následujících tvrzení o společnosti CIS s. r. o., zda je pravdivé (ANO), či nikoli (NE):

20.1 Společnost bude plátcem DPH.

A	N
<input type="checkbox"/>	<input type="checkbox"/>

20.2 Společnost bude odvádět daň spotřební.

<input type="checkbox"/>	<input type="checkbox"/>
--------------------------	--------------------------

20.3 Společnost bude registrovaná k dani z nemovitosti.

<input type="checkbox"/>	<input type="checkbox"/>
--------------------------	--------------------------

20.4 Společnost bude odvádět daň z příjmů ze závislé činnosti.

<input type="checkbox"/>	<input type="checkbox"/>
--------------------------	--------------------------

VÝCHOZÍ TEXT A TABULKA K ÚLOZE 21

Následující tabulka uvádí přehled oficiálních konečných volebních výsledků vybraných politických stran z voleb do Poslanecké sněmovny Parlamentu ČR konaných v roce 2002, 2006 a 2010:

Politická strana	Počet platných hlasů (v %)		
	rok 2002	rok 2006	rok 2010
ODS	24,47	35,38	20,22
KSČM	18,51	12,81	11,27
ČSSD	30,20	32,32	22,08
KDU-ČSL	14,27	7,22	4,39
Strana zelených	2,36	6,29	2,44

(www.volby.cz, upraveno)

2 body

21 Rozhodněte o každé z následujících politických stran, zda získaly poslanecké mandáty ve všech třech volebních obdobích (ANO), či nikoli (NE):

	A	N
21.1 KSČM, ODS a ČSSD	<input type="checkbox"/>	<input type="checkbox"/>
21.2 KDU-ČSL, ODS, KSČM a ČSSD	<input type="checkbox"/>	<input type="checkbox"/>
21.3 ODS, ČSSD, KSČM a Strana zelených	<input type="checkbox"/>	<input type="checkbox"/>

max. 2 body

22 Přiřadte k jednotlivým základním lidským právům (22.1–22.3) odpovídající příklady jejich porušování (A–E):

- 22.1 právo na život _____
22.2 právo na sdružování _____
22.3 právo na presumpci nevinu _____

- A) Příslušný městský úřad zakáže konání manifestace občanů proti vybudování spalovny odpadů.
- B) Média označí ještě v průběhu vyšetřování člověka podezřelého z vykonání trestného činu za vraha.
- C) Lékař nepodá pacientovi životně důležité léky, a pomůže tak těžce nemocnému k dobrovolnému odchodu z tohoto světa.
- D) Ministr spravedlnosti ve věci trestného činu ublížení na zdraví rozhodne, který soud a soudce bude věc projednávat a vynese rozsudek.
- E) Ministerstvo vnitra nepovolí založení občanského sdružení, které sice splnilo všechny právní náležitosti, ale hodlá se postavit jako občanská iniciativa proti místní radnici.

2 body

23 Která z následujících charakteristik odpovídá většinovému volebnímu systému?

- A) Při přepočítávání hlasů jsou užity různé matematické přepočty.
- B) Dochází často k povolebním jednáním a utváření koaličních vlád.
- C) Mandáty v zastupitelském orgánu si obvykle rozdělí dvě nejsilnější strany.
- D) Mandáty v zastupitelském orgánu se přidělují v podobném poměru, v jakém je zisk hlasů politických stran.

2 body

24 Které z následujících tvrzení o obcích není pravdivé?

- A) Starostu volí přímo občané obce v komunálních volbách.
- B) Kandidovat v obecních volbách mohou občané ČR od 18 let.
- C) Obec jako základní jednotka veřejné správy je právnickou osobou.
- D) Obecní rada je při výkonu samostatné působnosti odpovědná obecnímu zastupitelstvu.

VÝCHOZÍ TEXT K ÚLOZE 25

Naším konečným cílem, který spojuje naše skupiny, je odstranění společenské hierarchie, zejména státu.

(Vzhledem k povaze úlohy není zdroj výchozího textu uveden.)

2 body


25 Která z následujících ideologií odpovídá obsahu prohlášení ve výchozím textu?

- A) socialismus
- B) komunismus
- C) anarchismus
- D) nacionalismus


VÝCHOZÍ OBRÁZKY K ÚLOZE 26



1.



2.



3.

(www.google.cz)



4.

2 body

26 Které z následujících symbolů patří mezi státní symboly definované Ústavou ČR?

- A) symboly č. 1 a 2
- B) symboly č. 1 a 4
- C) symboly č. 2 a 3
- D) symboly č. 3 a 4

2 body

27 Který z následujících činitelů dle Ústavy ČR zastává funkci vrchního velitele ozbrojených sil?

- A) ministr obrany
- B) předseda vlády
- C) armádní generál
- D) prezident republiky

VÝCHOZÍ TEXT K ÚLOZE 28

POLITICKÝ PROGRAM

Hospodářská politika: Budeme prosazovat dokončení privatizace jako základního předpokladu ekonomického rozvoje.

Zahraniční politika: Budeme prosazovat jasné a jednoznačné spojení se světem západní demokracie v jeho euroatlantickém rozměru.

Veřejné finance: Budeme jednoznačně podporovat zavedení jednotné daňové sazby bez ohledu na výši zdaňované částky.

Sociální politika: Budeme prosazovat pružný systém sociálního zabezpečení. Podpora v nezaměstnanosti bude přicházet v úvahu pouze jako protiplnění za veřejně prospěšné práce.

Školství: Budeme prosazovat zjednodušené přijímací řízení na vysoké školy vybraného typu, kde se měřítkem úspěšnosti stanou až výsledky prvního roku studia. Jsme pro zavedení školného na vysokých školách.

Zdravotnictví: Dostupnost základní a nadstandardní zdravotní péče musí být kryta nejen pružným systémem zdravotního pojištění, ale z větší části individuálním připojištěním.

(www.denikpolitika.cz, upraveno)

2 body

28 Které z následujících politických stran odpovídá politický program ve výchozím textu?

- A) levicové
- B) pravicové
- C) krajně levicové
- D) krajně pravicové

2 body

29 Ve které z následujících skupin současných států jsou uvedeny pouze republiky?

- A) Francie, Polsko, Švédsko
- B) Německo, Portugalsko, Itálie
- C) Maďarsko, Dánsko, Nizozemí
- D) Finsko, Velká Británie, Slovinsko

2 body

30 Který z následujících ústředních orgánů ČR byl již zrušen?

- A) Ministerstvo informatiky
- B) Ministerstvo pro místní rozvoj
- C) Ministerstvo životního prostředí
- D) Ministerstvo práce a sociálních věcí

VÝCHOZÍ TEXT K ÚLOZE 31

Senát odmítl zákon o válečných veteránech

Senátoři včera neschválili zákon, který by ocenil služby veteránů. V připojeném pozměňovacím návrhu navrhli vypustit ustanovení, podle něhož by měli být za veterány považováni i rehabilitovaní vojáci z povolání. Poslanci původně prosadili pojem „válečný veterán“, kdy veteránem má být uznán nejen odbojář, ale také účastník novodobých válečných nebo mírových misí NATO či OSN.

(ČTK 15. 3. 2002, upraveno)

2 body

31 Napište oficiální název orgánu, který bude znovu projednávat zákon popsany ve výchozím textu:

VÝCHOZÍ TABULKA K ÚLOZE 32

kolo	KANDIDÁT 1		KANDIDÁT 2	
	Poslanecká sněmovna	Senát	Poslanecká sněmovna	Senát
1.	92	47	106	32
	139		138	
2.	94	46	104	31
	140		135	
3.	92	47	81	32
	139		113	

(www.cs.wikipedia.org, upraveno)

2 body

32 Napište název ústavní funkce ČR, do které byl jeden z kandidátů zvolen na základě výsledků popsany ve výchozí tabulce:

2 body

33 Seřadte jednotlivé fáze legislativního procesu (A–E) tak, jak jdou za sebou (33.1–33.5):

- A) Prezident využívá suspenzivní veto.
- B) Senát se návrhem zákona nezabýval.
- C) Zastupitelstvo kraje předkládá návrh zákona.
- D) Zákon byl schválen nadpoloviční většinou všech poslanců.
- E) Zákon byl schválen nadpoloviční většinou přítomných poslanců.

- 33.1 _____
- 33.2 _____
- 33.3 _____
- 33.4 _____
- 33.5 _____

2 body

34 Který z následujících právních předpisů má nejvyšší právní sílu?

- A) nařízení obce Vestec o stavební uzávěře v rozvojových lokalitách
- B) nařízení Magistrátu hl. m. Prahy o zřízení přírodního parku Smetanka
- C) nařízení vlády o způsobu evidence úrazů, hlášení a zasílání záznamu o úrazu
- D) nařízení Moravskoslezského kraje, kterým se vydává část Plánu oblasti povodí Odry

VÝCHOZÍ TEXT K ÚLOZE 35

***** provádí výkon soudního rozhodnutí v případě, že povinný nesplní dobrovolně to, co mu je vykonatelným soudním rozhodnutím uloženo. ***** nemusí hlásit povinnému svoji návštěvu předem. Mohlo by totiž dojít ke zmaření soudního rozhodnutí, např. vymáhání dluhu.

(www.finance.idnes.cz, upraveno)

2 body

35 Která z následujících právnických profesí patří na vynechaná místa (*****) ve výchozím textu?

- A) notář
- B) soudce
- C) advokát
- D) exekutor

VÝCHOZÍ TEXT K ÚLOZE 36

Společnost WANY s. r. o. zveřejnila inzerát, v němž hledá uklízeče/uklízečku na denní pravidelný úklid v rozsahu 6 hodin.

(CERMAT)

2 body

36 Která z následujících smluv bude s vybraným uchazečem uzavřena?

- A) smlouva o dílo
- B) pracovní smlouva
- C) dohoda o provedení práce
- D) dohoda o pracovní činnosti

VÝCHOZÍ TEXT K ÚLOZE 37

***** soud vynesl rozsudek v kauze pana F. D. Za pěstování léčivého konopí dostal podmínku 30 měsíců s odkladem na 3 roky. Jeho manželku soud zprostil obžaloby. Pan F. D. se proti rozhodnutí soudu odvolal ke krajskému soudu.

(www.piratskenoviny.cz, upraveno)

2 body

37 Který z následujících soudů patří na vynechané místo (*****)
ve výchozím textu?

- A) vrchní
- B) ústavní
- C) okresní
- D) nejvyšší

VÝCHOZÍ TEXT K ÚLOZE 38

Panu Karasovi byla uložena pokuta za to, že na přechodu pro chodce přecházel na červenou.

(CERMAT)

2 body

38 Ve kterém z následujících řízení byla řešena situace popsaná
ve výchozím textu?

- A) kárné
- B) trestní
- C) občanské
- D) přestupkové

max. 2 body

39 Přiřaďte k jednotlivým situacím (39.1–39.3) odpovídající smlouvu (A–E):

- 39.1 Jana se dohodla s bankou a sjednala si kontokorent. _____
- 39.2 Eva si nechala v obchodě s textilem ušít záclony a závěsy do bytu. _____
- 39.3 Zuzana si na internetu zakoupila Last Minute letecký zájezd do Chorvatska. _____
- A) o dílo
B) kupní
C) úvěrová
D) cestovní
E) pracovní

VÝCHOZÍ TEXT K ÚLOZE 40

Rodiče Michala zemřeli při dopravní nehodě. Jiné blízké příbuzné Michal nemá, proto byl svěřen do náhradní rodinné péče. Jde o opatření dočasné povahy, které skončí dosažením Michalovy zletilosti. K zajištění jeho potřeb dostává náhradní rodina od státu příspěvek a odměnu za výkon péče.

(CERMAT)

2 body

40 Napište název náhradní rodinné péče popsané ve výchozím textu:

2 body

41 Rozhodněte o každé z následujících možností, zda je příkladem humanitární pomoci (ANO), či nikoli (NE):

- | | A | N |
|--|--------------------------|--------------------------|
| 41.1 Česká republika poskytla materiální pomoc Gruzii, jejíž obyvatelstvo je dlouhodobě postiženo ozbrojeným konfliktem. Vládní letecký speciál dopravil do Gruzie především zdravotnický materiál. | <input type="checkbox"/> | <input type="checkbox"/> |
| 41.2 Česká republika poskytla dobrovolný příspěvek ve výši 1,5 mil Kč do Globálního svěřeneckého fondu programu z Dohá, který umožní chudším zemím zapojit se do systému mezinárodního obchodu. | <input type="checkbox"/> | <input type="checkbox"/> |
| 41.3 Česká republika zajistila pronájem 5 cisternových vozů a zásobovala dvě části uprchlického tábora Menik Farm pitnou vodou. Pomoc byla krátkodobá a zaměřená na vyřešení urgentního problému se zásobováním a distribucí pitné vody. Přispěla i ke zlepšení hygienických podmínek a snížení výskytu infekčních onemocnění. | <input type="checkbox"/> | <input type="checkbox"/> |

2 body

42 Který z následujících problémů nepatří mezi globální?

- A) Největší díl drogové problematiky se odehrává na nezákonném trhu. Černý trh s drogami je co do obrátu druhý největší na světě. V souvislosti s drogami se rozlišují země producentské, tranzitní a spotřebitelské.
- B) Nižší počet narozených dětí v západních zemích je dle názoru některých expertů velkým problémem. Varování odborníků je opodstatněné. Důsledkem bude nedostatek pracovních sil či hroutící se sociální systémy.
- C) Citlivě vnímaná je problematika dětské chudoby – dětí je na světě 2,2 miliardy, ovšem každé druhé trpí chudobou. 640 milionů dětí nemá kde bydlet, 400 milionů dětí nemá přístup k bezpečnému vodnímu zdroji, 121 milionům dětí se nedostává žádného vzdělání.
- D) Nedostatek pitné vody je velký problém. Dnes žije 8 % světové populace v zemích, kde se projevuje velký nedostatek pitné vody, a dalších 25 % v zemích, kde je situace jen o málo lepší. Předpokládá se, že budou-li současné trendy pokračovat, budou v roce 2025 žít v zemích s vážným nedostatkem pitné vody dvě třetiny lidí. Dostupnost pitné vody se stále zhoršuje.

2 body

43 Který z následujících cílů je hlavním posláním Organizace spojených národů na základě Charty OSN?

- A) Předcházet etnickým střetům uvnitř jednotlivých států.
- B) Chránit světový mír a zabránit vojenským konfliktům.
- C) Zmenšovat rozdíly v ekonomickém postavení lidí ve společnosti.
- D) Vyrovnávat rozdíly mezi rozvinutými a zaostalými regiony států světa.

VÝCHOZÍ TEXT K ÚLOZE 44

Smluvní strany se dohodly, že ozbrojený útok proti jedné nebo více z nich v Evropě nebo Severní Americe bude považován za útok proti všem, a proto odsouhlasily, že dojde-li k takovému ozbrojenému útoku, každá z nich uplatní právo na individuální nebo kolektivní obranu. Pomůže smluvní straně nebo stranám takto napadeným tím, že neprodleně podnikne sama a v souladu s ostatními stranami takovou akci, jakou bude považovat za nutnou, včetně použití ozbrojené síly, s cílem obnovit a udržet bezpečnost.

(Vzhledem k povaze úlohy není zdroj výchozího textu uveden.)

2 body

44 Která z následujících mezinárodních organizací je založena na principu popsaném ve výchozím textu?

- A) EU
- B) OSN
- C) NATO
- D) NAFTA

VÝCHOZÍ TEXT K ÚLOZE 45

Německá legislativa nařizovala nemocnicím nakupovat léčiva od dodavatelů, kteří sídlí ve stejné nebo blízké oblasti. Evropská komise požádala Německo o odstranění této bariéry. Německo svůj zákon zdůvodňovalo zvýšením bezpečnosti farmaceutických produktů. V konečném důsledku však zmíněný předpis bránil vstupu dodavatelů ze vzdálenějších lokalit na místní trh. Příklad se stal v prosinci loňského roku a do této chvíle nebyl vyřešen.

(www.penize.cz, upraveno)

2 body

45 Která z následujících základních svobod vnitřního trhu Evropské unie je porušována v případě popsaném ve výchozím textu?

- A) volný pohyb osob
- B) volný pohyb zboží
- C) volný pohyb služeb
- D) volný pohyb kapitálu

ZKONTROLUJTE, ZDA JSTE DO ZÁZNAMOVÉHO ARCHU UVEDL/A VŠECHNY ODPOVĚDI.
